

منطقة حولي التعليمية

اختبار نهاية الفترة الدراسية الأولى

العام الدراسي 2020/2019م

الصف السابع

نموذج إجابة اختبار مادة

الاجتماعيات



وزارة التربية
الإدارة العامة لمنطقة حولي التعليمية
التوجيه الفني للاجتماعيات

العام الدراسي : ٢٠٢٠/٢٠١٩ م
الزمن : ساعة وخمس وأربعون
عدد الأوراق (٥)
نموذج الإجابة

امتحان نهاية الفترة الدراسية الأولى
لمقرر الكويت والوطن العربي
للسبب السابع المتوسط

السؤال الأول: موضوعي ويتكون من (أ - ب - ج - د - هـ - و) لكل نقطة درجة

أ- ظلل الخيار الصحيح من بين الخيارات التي تلي كل عبارة:

١- مسطح مائي تحيط به اليابس من جميع الاتجاهات:

| | | | |
|---------|---------|---------|----------------|
| الينبوع | البحيرة | الأفلاج | المياه الجوفية |
|---------|---------|---------|----------------|

٢- الحضارة التي اعتقدت بالبعث والخلود:

| | | | |
|-----------|------------|----------|-----------------|
| أهل اليمن | بلاد الشام | السومرية | المصرية القديمة |
|-----------|------------|----------|-----------------|

٣- العام الميلادي الذي انضمت فيه جزر القمر إلى جامعة الدول العربية:

| | | | |
|-------|-------|-------|-------|
| ١٩٩٥م | ١٩٩٤م | ١٩٩٣م | ١٩٩٢م |
|-------|-------|-------|-------|

٤- المسطح المائي الذي يحد الوطن العربي من الشمال:

| | | | |
|---------------|----------|--------------|-----------|
| البحر المتوسط | بحر عمان | البحر الأحمر | بحر العرب |
|---------------|----------|--------------|-----------|

٥- كل ما ارتفع عن الأرض وله قمة لا يقل ارتفاعها عن ١٠٠٠ متر:

| | | | |
|---------|----------|--------|-------|
| السهل - | الهضبة - | التل - | الجبل |
|---------|----------|--------|-------|

٦- الرياح التي تهب على سلطنة عمان:

| | | | |
|-------------|-------|--------|--------|
| عكسية غربية | شتوية | موسمية | تجارية |
|-------------|-------|--------|--------|

٧- تقل الحرارة في فصل الشتاء في الوطن العربي كلما اتجهنا:

| | | | |
|-------|--------|-------|--------|
| غرباً | جنوباً | شرقاً | شمالاً |
|-------|--------|-------|--------|

ب - صنف الكلمات التالية بمكانها المناسب في الجدول الذي يليها:

(رأس الثور - بناء الأهرامات - مسلة حمورابي - مدينة يثل الدينية - حدائق بابل المعلقة)

| حضارة مصر القديمة | حضارة بلاد الرافدين | حضارة بلاد اليمن | حضارة دلمون |
|------------------------|--|------------------------|----------------|
| بناء الأهرامات ص ٧٧ | حدائق بابل المعلقة ص ٨٢ مسلة حمورابي ص ٨٤ | مدينة يثل الدينية ص ٨٥ | رأس الثور ص ٨٨ |

تابع / السؤال الأول (موضوعي)
ج- صوب ما تحته خط في العبارات التالية:

| م | العبرة | التصويب |
|---|---|-------------------------|
| ١ | الأنهار من أهم مصادر المياه في الوطن العربي وتمتاز بأنها <u>مالحة</u> . | ص ٥٧ عذبة |
| ٢ | يطلق حالياً على بلاد ما بين النهرين اسم <u>مصر</u> . | ص ٧٩ العراق |
| ٣ | عَرَفَ أهل اليمن الأبجدية التي كانت تكتب بالخط <u>الهيروغليفي</u> . | ص ٨٧ المسند |
| ٤ | وزن الهواء فوق أي مكان يسمى <u>الضغط المائي</u> . | ص ٤٤ الجوي |
| ٥ | نزل القرآن الكريم على سيدنا محمد (ﷺ) عام ٦١٠م في <u>المدينة المنورة</u> . | ص ٩٠ مكة المكرمة |
| ٦ | من وسائل الري الحديثة الرش <u>بالنيابيع</u> . | ص ٦٣ التنقيط المحوري |

د- أكمل العبارات التالية بما يناسبها فيما درست:

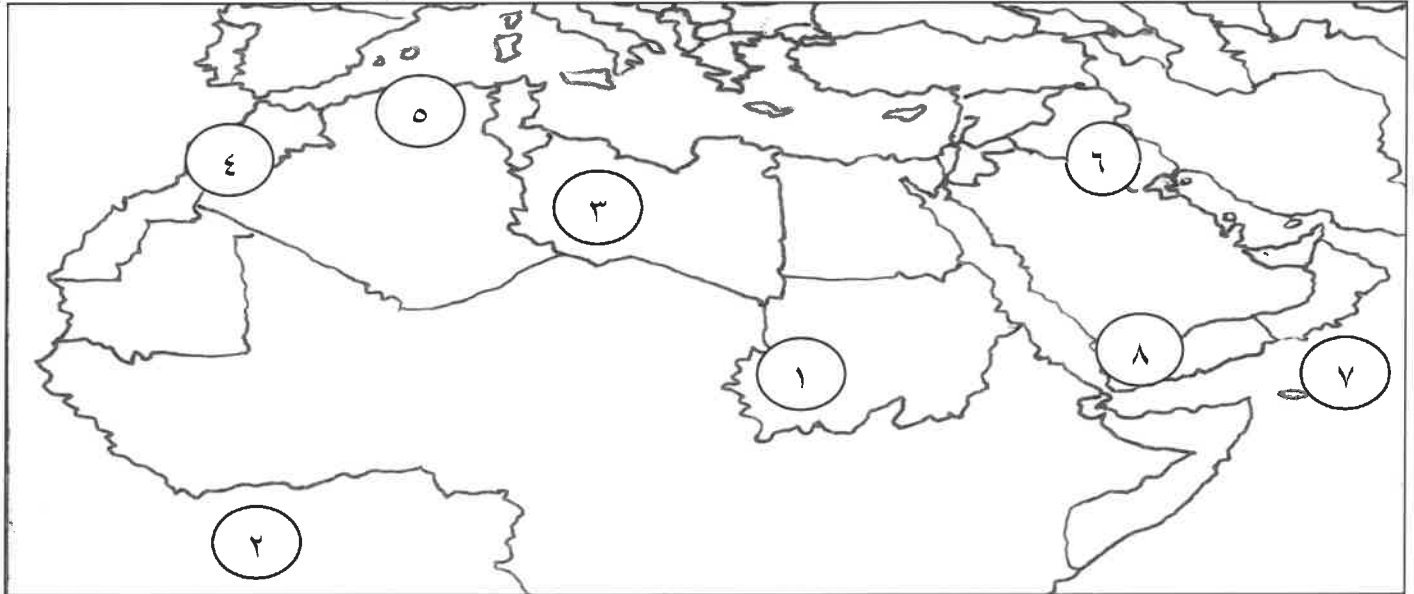
- ١- المنطقة التي توجد بها أهم محطة تحلية مياه في المملكة العربية السعودية اسمها الإحساء. ص ٦١
- ٢- الكتابة التي اخترعها السومريون اسمها المسمارية. ص ٨٣
- ٣- المدينة اليمنية القديمة التي ورد ذكرها في القرآن الكريم هي سبأ. ص ٨٦
- ٤- ممر مائي ضيق يصل بين بحرين أو محيطين أو أي مساحتين كبيرتين نسبياً من الماء يسمى المضيق. ص ٢٨
- ٥- المسطح المائي الذي يحد الوطن العربي من جهة الشرق اسمه الخليج العربي. ص ٣٤
- ٦- الدولة العربية الافريقية الأكبر مساحة في الوطن العربي اسمها الجزائر. ص ٢٣

تابع / السؤال الأول (موضوعي)

هـ - ظلل الحرف (أ) إذا كانت العبارة صحيحة وظلل الحرف (ب) إذا كانت العبارة خاطئة:

| م | العبارة | (أ) | (ب) |
|---|--|-------|-------|
| ١ | أهتم المصريون القدماء ببناء القبور وأقامت المعابد الفخمة للآلهة. | أ | ب |
| ٢ | السهول مساحة صغيرة من الأرض تتميز بتعرجها. | أ | ب |
| ٣ | قاومت دول الوطن العربي الاستعمار للحصول على استقلالها. | أ | ب |
| ٤ | اللغة الرسمية للمملكة الأردنية هي اللغة العربية. | أ | ب |
| ٥ | تعد الهضاب أقل الأشكال التضاريسية انتشاراً في الوطن العربي. | أ | ب |
| ٦ | المناخ في دولة الكويت معتدل وممطر صيفاً. | أ | ب |

و - امامك خريطة الوطن العربي الصماء ، اكتب الرقم الدال على العبارات التي تليها:



- حضارة حمير على الخريطة يمثلها الرقم (٨)
- جبال مرة على الخريطة يمثلها الرقم (١)
- هضبة الشطوط على الخريطة يمثلها الرقم (٥)
- المحيط الأطلسي على الخريطة يمثلها الرقم (٢)
- الدولة التي تهب عليها رياح القبلي على الخريطة يمثلها الرقم (٣)
- دولة يمر بها نهر الفرات على الخريطة الرقم (٦)

ص ٨٥

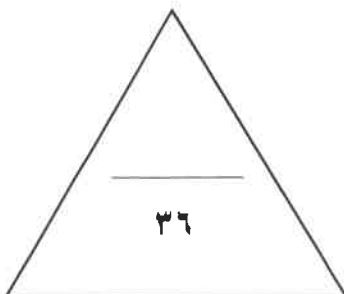
ص ٣٨

ص ٤٠

ص ٤٠

ص ٤٨

ص ٥٨



السؤال الثاني (مقالي) ويتكون من (أ - ب - ج) : لكل نقطة درجة

أ - اقرأ الفقرة التالية ثم أجب عن ما يليها : (ثلاث درجات) ص ٧٥

(الحضارة المصرية من الحضارات التي قامت في الوطن العربي ، ولا تزال بعض آثارها قائمة حتى وقتنا الحاضر ، وقد ساعد على قيامها عدة عوامل منها امتداد الصحراء واعتدال المناخ وجفافه) .

١- اقترح عنواناً مناسباً للفقرة السابقة .
أي عنوان مناسب يراه المصحح صحيح يتضمن محتوى الفقرة .

٢- استخرج من الفقرة : عاملين ساعدا على قيام الحضارة المصرية القديمة .

- امتداد الصحراء .

- اعتدال المناخ وجفافه .

ب - فرق بين كل مما يلي : ست درجات

| الديانة المسيحية ص ٩٠ | الديانة اليهودية ص ٩٠ |
|--|---|
| - نزلت على سيدنا عيسى وكتابة الانجيل | - نزلت على سيدنا موسى عليه السلام وكتابه التوراة |
| الموقع النسبي ص ٣٣ | الموقع الفلكي ص ٣١ |
| - موقع الدولة بالنسبة لليابس والماء | - نقطة من الكرة الأرضية يتحدد موقعها من خطوط الطول ودوائر العرض |
| الطقس ص ٤٤ | المناخ ص ٤٤ |
| - حالة الجو في مكان لمدة قصيرة تتراوح بين يوم أو بين عدة أيام من حيث درجة الحرارة والرطوبة والأمطار والرياح والضغط الجوي | - حالة الجو خلال فترة زمنية طويلة من حيث درجة الحرارة والرطوبة والأمطار |

ج - علل لما يأتي : ثلاث درجات

١- كانت أوروبا قديماً تعيش في عصور الظلام. ص ٩٢

- بسبب سيطرة الكنيسة على عقول الناس

٢- يؤثر المناخ كأحد العوامل الرئيسية في تنوع النبات الطبيعي في الوطن العربي. ص ٥١

- لاختلاف درجات الحرارة واختلاف كمية الأمطار ومواسمها.

٣- للوطن العربي أهمية حضارية وثقافية. ص ٣٦

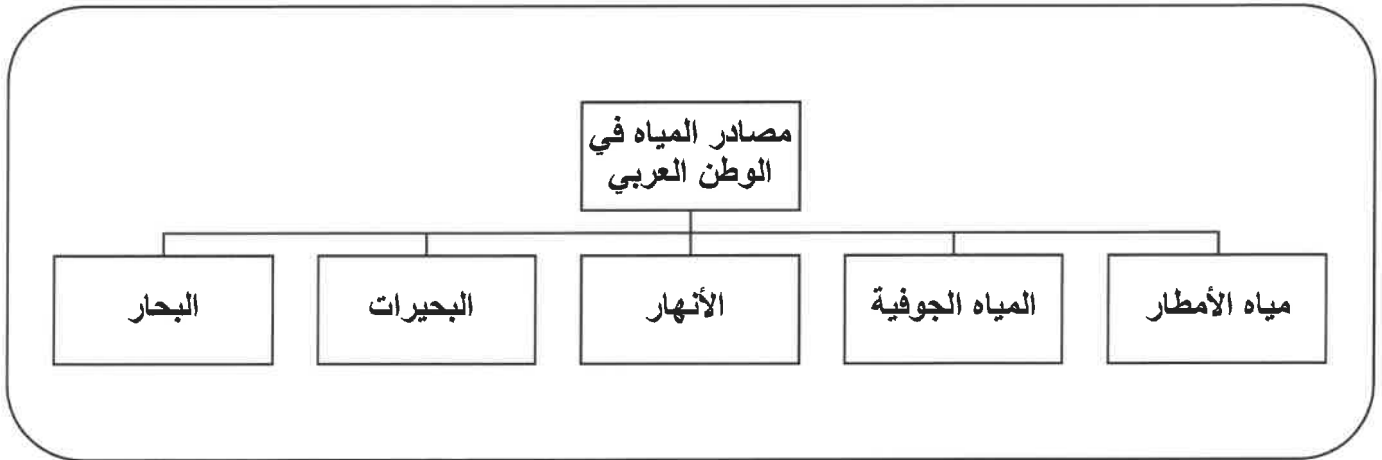
- لهبوط على أرضه ديانات سماوية انتشرت في أنحاء العالم .

السؤال الثالث (مقالي) ويتكون من (أ - ب - ج) : لكل نقطة درجة

أ- قارن بين كل من: اربع درجات

| الغابات المعتدلة ص ٥٢ | الغابات المدارية ص ٥٢ | أوجه المقارنة |
|--|---|-------------------|
| - عدم الكثافة - بعضها دائم الخضرة وبعضها تتساقط أوراقه في فصل الشتاء | - تمتاز بخصامة اشجارها وجذوعها وتشابك اغصانها وأوراقها العريضة وارتفاعها الكبير | مميزاتها |
| - الأرز والعرعر والصنوبر الحلبي والبلوط والسنديان والزيتون والتفاح والحمضيات والفواكه الأخرى | الساج - الماهونجي - التاك - والأبنوس - السدر - الأثل - السنط | أمثلة على اشجارها |

ب- ارسم مخططاً سهماً لثلاثة من مصادر المياه في الوطن العربي. ص ٥٧ ثلاث درجات



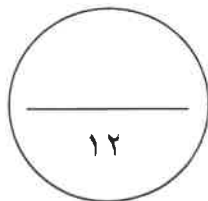
ج- اجب عن الأسئلة التالية: خمس درجات

١- اذكر العوامل التي تؤثر في مناخ الوطن العربي. ص ٤٦

- الموقع بالنسبة لدوائر العرض
- البعد أو القرب عن المسطحات المائية
- التضاريس
- الرياح

٢- عدد فنون حضارة بلاد الرافدين. ص ٨٢

- فن النحت
- البناء
- الرسم
- الأواني الفخارية



انتهت الأسئلة مع تمنياتنا لكم بالنجاح